

CP Programmation de jeudi 2 et vendredi 3 avril 2020

Bonjour à tous. J'espère que vous allez bien. Le travail c'est bon pour la santé, alors on y va :
Chers parents, voici l'organisation du travail pour votre enfant de CP.

Jeudi 2 avril

-faire une phrase avec *hier*

*Parents : veillez à ce que votre enfant mette la majuscule et le point. Expliquez que le h est muet et que exceptionnellement *er* fait « ère » est non « é ». L'écriture de ce mot est à retenir par cœur.*

Votre enfant doit construire une phrase au passé, montrez-lui les formes verbales qu'il peut utiliser, ex : j'ai mangé, tu as mangé, il a mangé...

Il peut s'aider du livret « Mes outils pour écrire ».

LECTURE/ vocabulaire

-relire son album p 20 et 22

-faire le fichier de français p 65 :

Parents : il s'agit d'écrire une liste de ce que Jack et sa mère vont pouvoir acheter grâce aux pièces d'or. Une chose par tiret. Pour ce travail, votre enfant doit prendre le livret des outils pour écrire. Il y cherchera des mots dans « les jouets » (pour Jack), « les vêtements » (pour la maman), « la maison » (liste de meubles), « les fruits et légumes » (pour manger). Il écrira p 65 la liste de choses à acheter.

MATHS : révision de problèmes avec l'addition à trous

-lire le bas de page du fichier de maths p 77 (révision)

-pas de fichier mais une fiche n°32 faire les exercices 1, 2, 3 **annexe 4**

Parents : Je vous propose de faire avec votre enfant une révision sur les problèmes avec l'addition à trous (séquences 32 et 33 du fichier de maths)

Pour aider votre enfant à comprendre un problème, il peut dessiner ou manipuler avec son matériel en papier : réglettes (=dizaines) et cubes (= unités)

Exemple pour le pb n°2 : Dans le car, 7 personnes sont assises : je fais un groupe de 7 petits cubes, puis 8 personnes montent : je fais un nouveau groupe de 8 petits cubes.

Combien de cubes manquent-ils pour aller jusqu' à 20 places du car?

QUESTIONNER LE MONDE :

A partir du conte « Thomas au temps des chevaliers »

-L'enfant relit p 17: *Les préparatifs* **annexe 1**

-réaliser des ensembles de 3 épées p21, colorier l'objet qui ressemble au modèle p22 **annexe 2**

ANGLAIS (toujours à l'oral)

Répondre aux questions :

What's your name ? -My name is

How old are you ?, I m ... years old.

Votre enfant répète les nombres après vous :

one 1 two 2 three 3 four 4 five 5 six 6 seven 7 eight 8 nine 9 ten 10

Where do you live? (Où habites-tu?) I live in l'île d'Olonne (j'habite à l'Ile d'Olonne)

Vendredi 3 avril

-faire une phrase avec *il est*

Parents : veillez toujours à la majuscule et au point.

Dites *est* : il s'agit du verbe être au présent, *il est* un petit mot appelé pronom et il désigne soit une personne, soit une chose, soit un animal au masculin.

-pour aller plus loin (facultatif), faire l'écriture avec la fiche « *es / est* » annexe 5

LECTURE

-lire son album p23

-fichier de français p 66 (s'aider de l'album p23 sous les yeux)

Parents : pour l'ex n°3 p66, vous pouvez aider votre enfant en le questionnant à l'oral puis en fabriquant avec lui une réponse courte. Il peut également repérer les mots de réponses dans la page 23 de l'album.

Exemples possibles :

La mère de Jack est étonnée parce qu'il n'a volé qu'une pauvre poule.

Ils vivent heureux parce que la poule pond des œufs en or.

MATHS : révision de problèmes avec l'addition à trous

-relire le bas de page du fichier de maths p 77 (révision)

-fiche n°32 faire l'exercice 3 annexe 4

Parents, il y a plusieurs réponses possibles.

Pour Théo par exemple : $1+3+9+2+5 = 20$

Pour Marie : $6+5+5+3+1 = 20$

QUESTIONNER LE MONDE :

A partir du conte « Thomas au temps des chevaliers »

-L'enfant relit p 17 : *Les préparatifs* annexe 1

-Colorier en vert les femmes qui vont vers la droite et en jaune celles qui vont vers la gauche p23 et terminer les créneaux du château à la règle.p24. Annexe 3

ANGLAIS (toujours à l'oral)

-toujours s'exercer à répondre aux questions :

What's your name ? (Quel est ton nom ?)-My name is (Mon nom est ...)

How old are you ? (quel âge as-tu?) , I' m ... years old. (J'ai ... ans)

-Mémoriser les nombres, votre enfant répète après vous :

one 1 two2 three3 four4 five5 six6 seven7 eight 8 nine 9 ten 10

Where do you live? (Où habites-tu?), I live in l'île d'Olonne (j'habite à l'Ile d'Olonne)

En plus , pour aller plus loin :


-écriture sur *es / est* annexe 5

-Points à relier de 1 à 90 annexe 6

-jeux éducatifs en ligne : <https://www.logicieleducatif.fr/> (coloriages magiques en ligne, calculs...)

THOMAS AU TEMPS DES CHEVALIERS

2. Les préparatifs

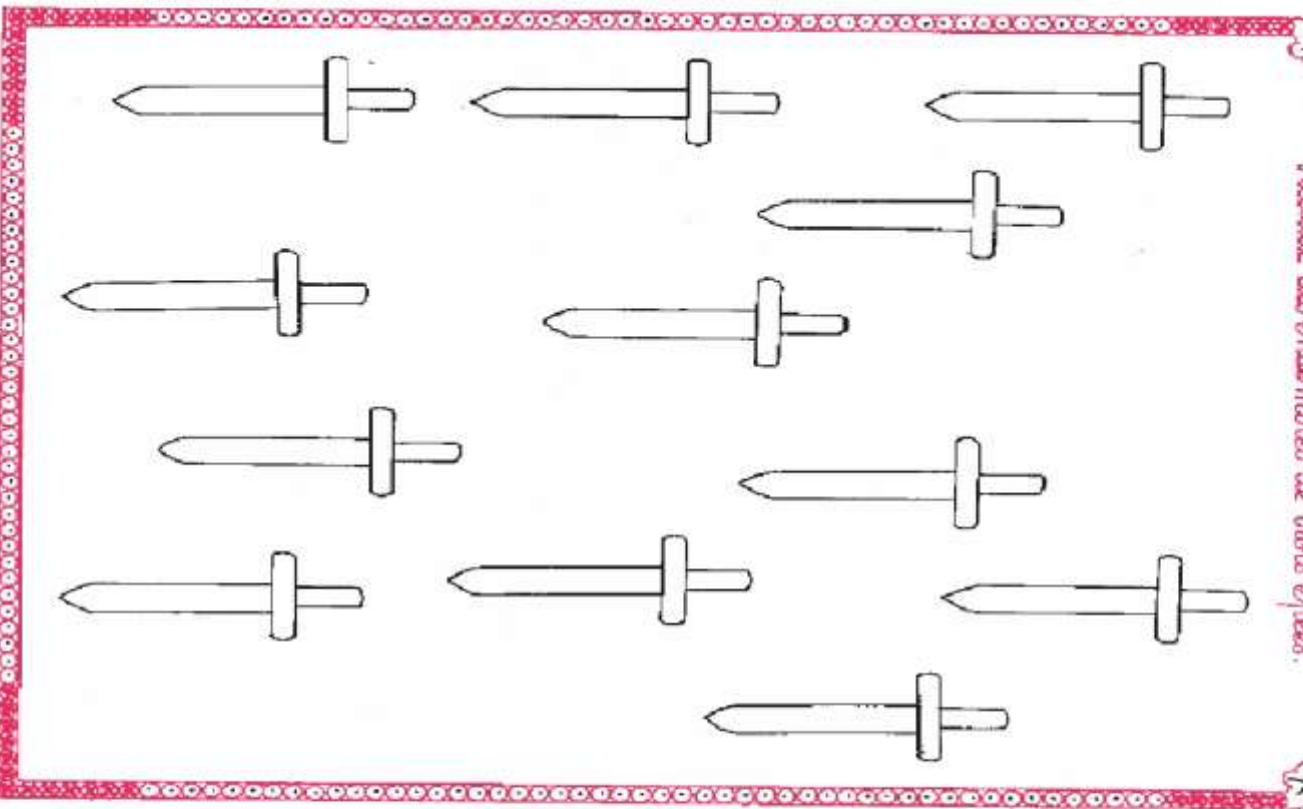


Dès l'annonce de la future bataille, ce fut le branle-bas dans tout le château. Pendant plusieurs jours, les paysans se mirent à préparer de la viande pour la conserver dans du sel. Les femmes firent des réserves d'eau. Les soldats rassemblèrent toutes les flèches et les arbalètes qu'ils pouvaient. L'écurier prépara soigneusement les armes du seigneur. Thomas participa aussi aux préparatifs, même si, au fond de lui, il avait très peur.

Quelques jours avant la bataille, tous les paysans vinrent se réfugier dans le château puis on leva le pont-levis. Thomas alla se promener encore une fois sur le chemin de ronde. Il regarda à travers une meurtrière. Les guerriers du seigneur Hernaut étaient prêts eux aussi. Il fallait absolument empêcher cette bataille ! Soudain, Thomas eut une idée...

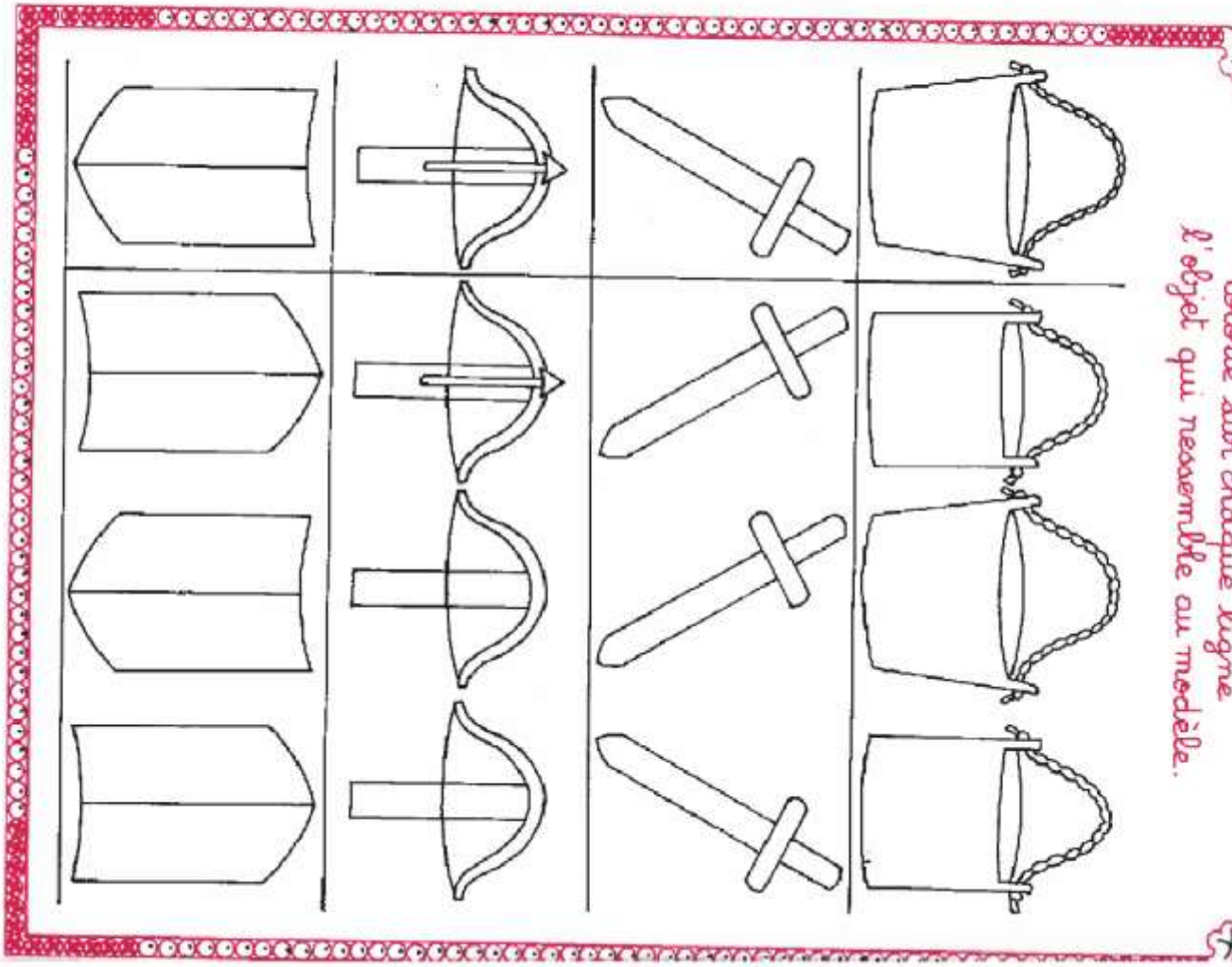
5

Réalise des ensembles de trois épées.



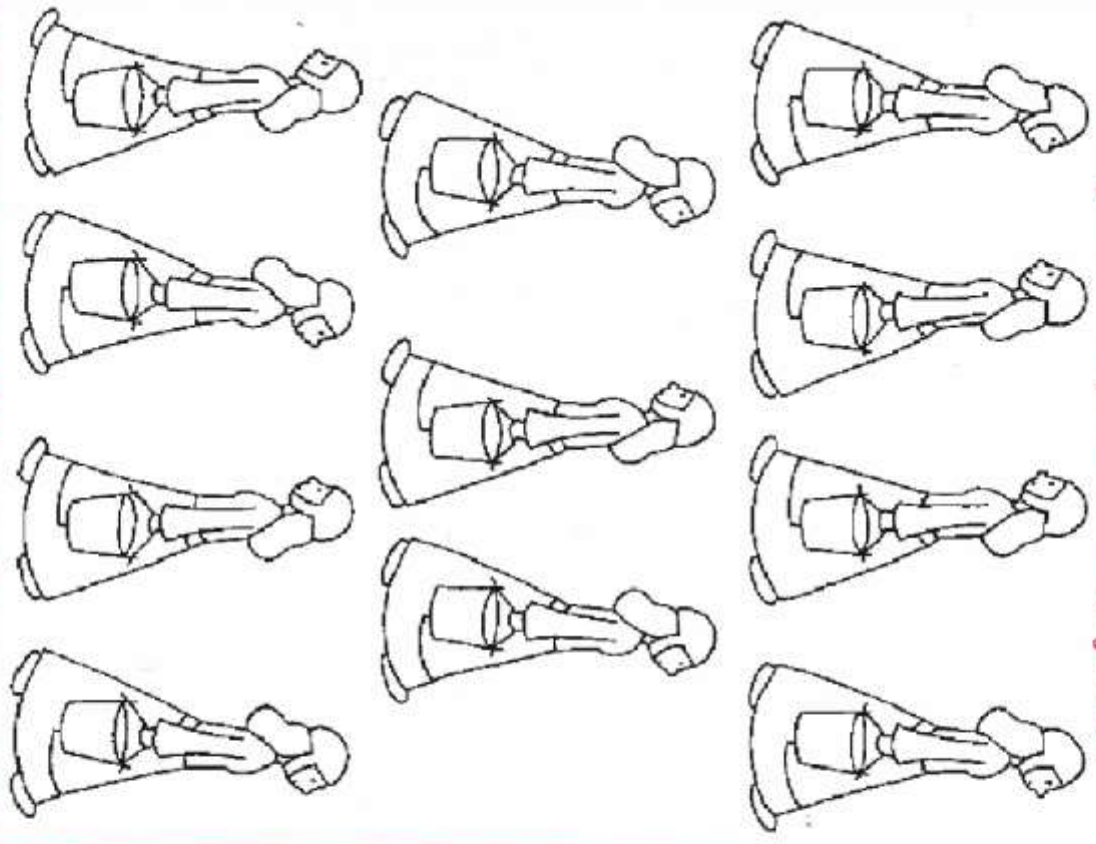
6

Colore aux crayons chaque ligne l'objet qui ressemble au modèle.

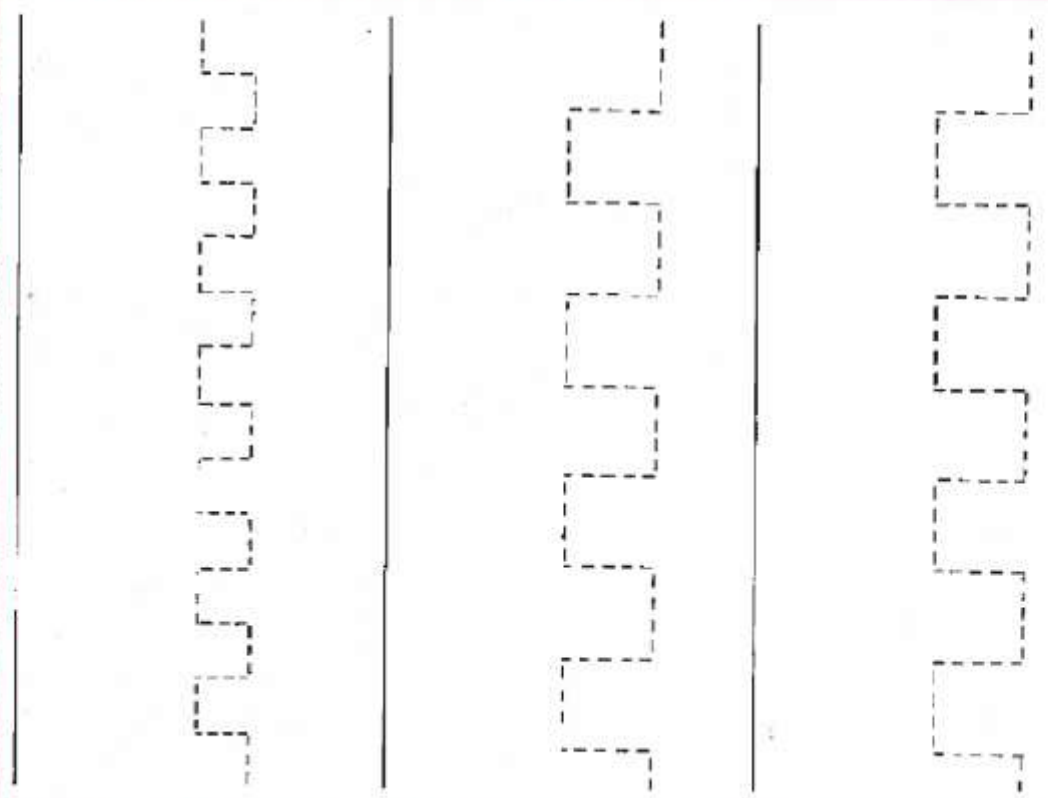


7

Eslerie en vent les femmes qui vont vers la droite,
et en jaune celles qui vont vers la gauche.



Termine les créneaux du château.



Nom :



Prénom :

Date :

- Dans des situations où une quantité subit une augmentation, trouver la valeur de l'augmentation.
- Trouver ce qui a été ajouté.

1 Pour gagner, il faut obtenir un total de 15 points en additionnant 2 cartes de même catégorie.

Dessine la carte qui manque.



2 Samuel conduit un car de 20 places. Quand il démarre, 7 personnes sont assises. Au 1^{er} arrêt, 8 personnes montent.

- Combien de personnes pourront monter au prochain arrêt ?

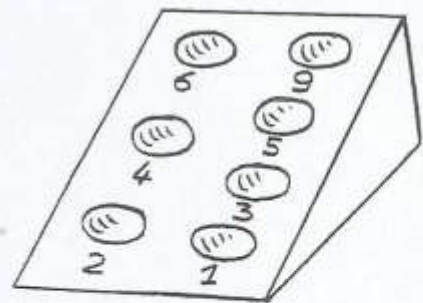
.....

.....

3 Pour gagner, il faut totaliser 20 points exactement. Chaque joueur dispose de 5 boules.

- Dans quels trous Théo et Marie doivent-ils lancer leurs boules pour gagner ?

Théo	Points	Marie	Points
1 ^{re} boule	1	1 ^{re} boule	6
2 ^e boule	3	2 ^e boule	5
3 ^e boule	9	3 ^e boule	5
4 ^e boule	4 ^e boule
5 ^e boule	5 ^e boule



- Termine la partie en complétant les tableaux.

.....

.....

.....

.....

Leçons
19-20

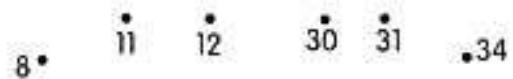
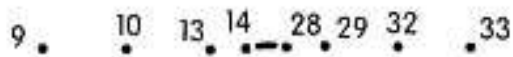

es tu es est il est, elle est

1 ec
el

2 elle
avec
le bec
la lecture
du sel
une pelle

3 je suis - tu es - il est - elle est

4 Rachel est malade. A-t-elle de la fièvre?



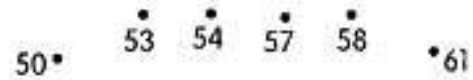
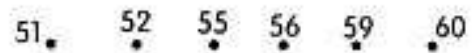
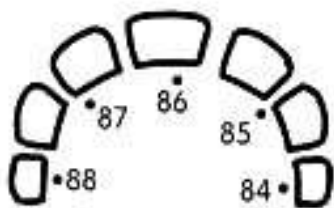
5 •

4 •

3 •

2 •

1 •



46 •

45 •

44 •

43 •

42 •

41 •

40 •

39 •

38 •

37 •

36 •

35 •

34 •

33 •

32 •

31 •

30 •

29 •

28 •

27 •

26 •

25 •

24 •

23 •

22 •

21 •

20 •

19 •

18 •

17 •

16 •

15 •

14 •

13 •

12 •

11 •

10 •

9 •

8 •

7 •

6 •

5 •

4 •

3 •

2 •

1 •

• 65 • 66 • 69 • 70

• 67 • 68 • 71

• 72

• 73

• 74

• 75

• 76

• 77

• 78

• 79

• 80

• 81

• 82

• 83

• 84

• 85

• 86

• 87

• 88

• 89

• 90

• 91

• 92

• 93

• 94

• 95

• 96

• 97

• 98

• 99

• 100

• 101

• 102

• 103

• 104

• 105

• 106

• 107

• 108

• 109

• 110

• 111

• 112

• 113

• 114

• 115

• 116

• 117

• 118

• 119

• 120

• 121

• 122

• 123

• 124

• 125

• 126

• 127

• 128

• 129

• 130

• 131

• 132

• 133

• 134

• 135

• 136

• 137

• 138

• 139

• 140

• 141

• 142

• 143

• 144

• 145

• 146

• 147

• 148

• 149

• 150

• 151

• 152

• 153

• 154

• 155

• 156

• 157

• 158

• 159

• 160

• 161

• 162

• 163

• 164

• 165

• 166

• 167

• 168

• 169

• 170

• 171

• 172

• 173

• 174

• 175

• 176

• 177

• 178

• 179

• 180

• 181

• 182

• 183

• 184

• 185

• 186

• 187

• 188

• 189

• 190

• 191

• 192

• 193

• 194

• 195

• 196

• 197

• 198

• 199

• 200

• 201

• 202

• 203

• 204

• 205

• 206

• 207

• 208

• 209

• 210

• 211

• 212

• 213

• 214

• 215

• 216

• 217

• 218

• 219

• 220

• 221

• 222

• 223

• 224

• 225

• 226

• 227

• 228

• 229

• 230

• 231

• 232

• 233

• 234

• 235

• 236

• 237

• 238

• 239

• 240

• 241

• 242

• 243

• 244

• 245

• 246

• 247

• 248

• 249

• 250

• 251

• 252

• 253

• 254

• 255

• 256

• 257

• 258

• 259

• 260

• 261

• 262

• 263

• 264

• 265

• 266

• 267

• 268

• 269

• 270

• 271

• 272

• 273

• 274

• 275

• 276

• 277

• 278

• 279

• 280

• 281

• 282

• 283

• 284

• 285

• 286

• 287

• 288

• 289

• 290

• 291

• 292

• 293

• 294

• 295

• 296

• 297

• 298

• 299

• 300

• 301

• 302

• 303

• 304

• 305

• 306

• 307

• 308

• 309

• 310