

Nom : Date :

1. Écris les résultats des calculs dictés par la maitresse ou par le maitre.

a	b	c	d	e	f	g	h	i	j

2. Écris les résultats des calculs dictés par la maitresse ou par le maitre.

a	b	c	d	e	f	g	h	i	j

3. Écris les résultats des calculs dictés par la maitresse ou par le maitre.

a	b	c	d	e	f	g	h	i	j

4. Écris les résultats des calculs dictés par la maitresse ou par le maitre.

a	b	c	d	e	f	g	h	i	j

5. Tu peux utiliser toutes les opérations que tu connais.

Avec 10 5 8 2

Écris au moins un calcul pour obtenir chacun des résultats suivants.

4

16

30

100

82

.....
.....
.....

6. Pose les opérations pour faire les calculs suivants. (aide-toi ou cahier de brouillon)

a. $(362 \times 27) = \dots\dots\dots$

c. $(29 \times 27) = \dots\dots\dots$

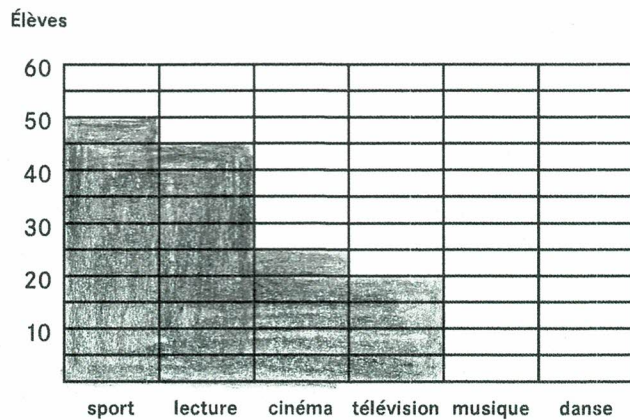
b. $(575 - 398) = \dots\dots\dots$

d. $(580 - 492) = \dots\dots\dots$

Nom : Date :

7. Isidore a fait une enquête dans son école pour savoir quel était le loisir préféré des élèves. Tous les élèves ont répondu.

Il a constaté qu'il y avait autant d'élèves qui ont choisi la danse que le cinéma. Il a commencé à faire un graphique pour représenter les réponses obtenues.



- a. Complète ce tableau.

loisir préféré	sport	lecture	cinéma	télévision	musique	danse
nombre d'élèves					35	

- b. Complète le graphique.

8. Au début de la récréation, Zoé avait 85 billes et Arthur en avait 118.

À la fin de la récréation, Zoé en a 103 et Arthur en a 80.

Combien de billes chacun a-t-il gagnées ou perdues ?

.....

9. Un marchand de voitures vient de recevoir 72 voitures.

Il en a maintenant 200.

Combien de voitures avait-il avant d'en recevoir 72 ?

.....

10. Dans un magasin, on trouve des boîtes de feutres. Dans une boîte, il y a 8 feutres.

a. Alice a acheté 5 boîtes de feutres.

Combien de feutres a-t-elle achetés ?

b. Un directeur d'école a besoin de 100 feutres.

Combien de boîtes de feutres doit-il acheter ?

.....

11. Quatre enfants se partagent les 52 cailloux qu'ils viennent de ramasser.

Ils doivent tous en avoir le même nombre.

Combien de cailloux aura chaque enfant ?

Nom : Date :


12. Dans une librairie, un dictionnaire coute 2 € de plus qu'un atlas.
Pour l'achat de 10 dictionnaires, un directeur d'école paie 200 €.
Combien coute un atlas ?

13. Lou, Sam et Flip ont reçu chacun une boîte de chocolats.
Si on rassemble, les chocolats de Lou et de Sam, on trouve 20 chocolats.
Si on rassemble, les chocolats de Sam et de Flip, on trouve 25 chocolats.
Si on rassemble, tous les chocolats, on trouve 30 chocolats.
Combien de chocolats y a-t-il dans la boîte de chacun ?

14. Lou doit tracer un segment de 1 m.
Elle a commencé à tracer un trait qui mesure 86 cm.
De quelle longueur doit-elle encore le prolonger ?


15. Un circuit de cross est composé de trois tronçons.
Le premier tronçon mesure 850 m, le deuxième 2 km et le troisième 1 600 m.
Quelle est la longueur du circuit ? Écris-la en km et m.

16. Voici les masses marquées dont on dispose. Chacune d'elles existe en plusieurs exemplaires.



a. Écris les valeurs des masses que l'on a utilisées pour peser le sac A.

.....
.....



b. Quel est le sac le plus lourd ? Explique ta réponse.

.....
.....