





LA MÉTÉO SUR UNE ANNÉE

- 1) Quel mois a été le plus ensoleillé ?
 - 2) Quels sont les mois pendant lesquels il n'a pas neigé ?
 -
 - 3) Combien de jours de pluie y a-t-il eu en avril ?
 - 4) Complète les informations du mois de décembre :
- jours

jours

jours

 jours
- 5) Combien de journées nuageuses voit-on en février ?
 - 6) Quelle ligne est la plus développée ?
 - 7) Calcule le total des jours où il a neigé pendant l'année :
 - 8) Quel est le mois le moins pluvieux ?
 - 9) Quel est le mois le plus équilibré ?
 - 10) A quoi correspond le nombre 14 au mois de juin ?

